

Név: osztály:

2. TÉMAZÁRÓ DOLGOZAT

Munkamegosztás a családban

1./ Válogasd szét a következő munkákat aszerint, hogy kinek a feladata volt! (7 pont)

kenyérsütés, munkaeszközök javítása, libaőrzés, lovak etetése, virágoskert gondozása, marokszedés, fűkaszálás, a feladatok kiosztása, tejfeldolgozás, aratás, vízhordás, malacőrzés, részvétel a kenderfeldolgozásban, részvétel minden mezőgazdasági munkában

gazda: _____

legény, nős férfi: _____

fiú: _____

gazdasszony: _____

eladó lány: _____

menyecske: _____

lány: _____

2./ Döntsd el, hogy a napi, a heti vagy az éves munkarend részei voltak a következő munkák! Írd mindegyiket a táblázat megfelelő helyére! (9 pont)

mosás, állatok takarmányozása, aratás, főzés, szüret, kenyérsütés, nagytakarítás, a tehén fejése, kukoricafosztás

Napi munka	Heti munka	Éves munka

3./ Írd a megfelelő keretbe az állattartási módokra jellemző állítások számát! (6 pont)

szilajpásztorkodás	félszilaj-pásztorkodás	kezesartás

1. Az állatok naponta jártak a legelőre.
2. Az állatok tavasztól ősziig voltak a legelőn.
3. Az állatok télen-nyáron a legelőn voltak.
4. A jószágokat a Szent Mihálykor felfogadott pásztrok gondozták.
5. A jószágokat a gazda gondozta.
6. Az állatokra ridegpásztorok vigyáztak.

4./ Töltsd ki értelemszerűen az alábbi táblázatot! (4 pont)

állatok fajtája	az állatok csoportjának neve	a pásztoruk elnevezése
ló		
szarvasmarha		
juh		
sertés		

5./ Hogyan nevezik azt a pásztort, aki:

(3 pont)

- megegyezett a gazdákkal az őrzés feltételeiről: _____
- idősebb, tapasztalt ember, feladata az állatok őrzése: _____
- fiatal „pásztortanuló”, feladata a pásztorkunyhó és környéke rendbentartása: _____

6./ Számozással állítsd sorrendbe a gabonatermelés munkafolyamatának egyes lépéseit! (8 pont)

- ___ A kévétet szalmakötélrel összekötötték.
- ___ A learatott gabonát cséphadaróval kicsépe
- ___ A barázdákat fogasboronával elsímították.
- ___ Az elvetett magot tövisboronával vagy fahengerrel betakarták.
- ___ A talajt ekével fölszántották.
- ___ A beérett búzát kaszával learatták.
- ___ A gabonát zsákból vagy abroszból elvetették.
- ___ A tarlót bögövel (tarlógereblyével) felgereblyézték.

7./ Az előző feladat mondataiban szerepelt az eszköz neve is, amellyel a munkát végezték. Az aláhúzott eszközneveket húzd ki az alábbi betűhalmazból! A fennmaradó betűkből összeolvashatod a gabonatermeléshez kapcsolódó ünnep nevét. (1 pont)

F
O

C E G

S K A S Z A

É A E S R A

P T Ó B Ö G Ö

H Ü N O N E P

A A B R O S Z

D S É O G

F A H E N G E R

R S Z A L M A K Ö T É L

Ó

Megfejtés: _____

8./ Az alábbi táblázatban a kenderfeldolgozás fő munkamozzanatainak leírását olvashatod. Írd mindegyik mellé a munka nevét és rajzos ábrázolásának számát! (fonás, gerebenezés, csévélés, tilolás, vetőfára tekerés, motollálás, szövés, gombolyítás) (8 pont)



1.




2.



3.



4.



5.



6.



7.


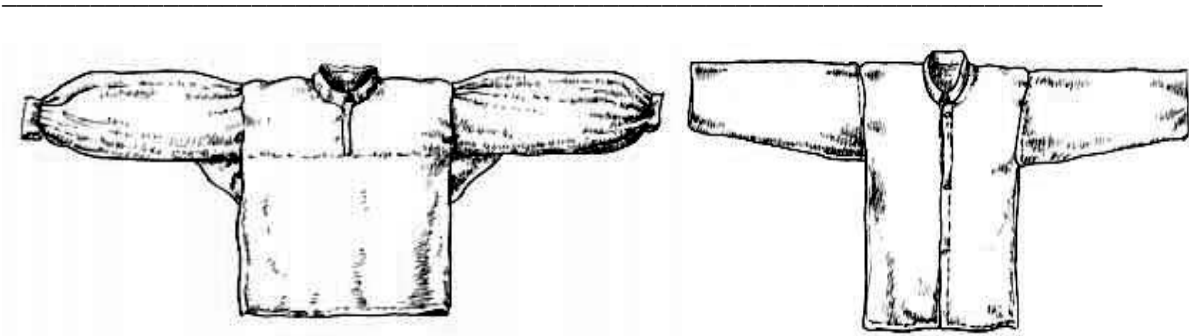
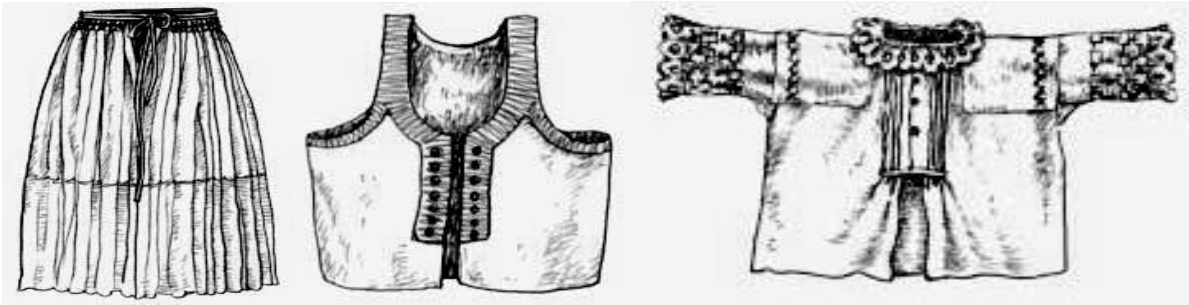


8.

	a munka neve	a rajz száma
Az áztatás során elkorhadt belső fás részt tilóval összetörték, hogy a pozdorja kihulljon a rostszálak közül.		
A gereben segítségével a rostszalagokat vékonyabb szálakra hasogatták, és párhuzamosra fésülték.		
A laza göngyöleggé formált rostcsomót guzsalyra kötötték, és a kihúzott szálakat az orsó pörgetésével fonallá sodorták.		
A kész fonal hosszát a motolla segítségével mérték le.		
A motringokba tekert, megtisztított fonalat gombolyítóval gombolyították.		
A vetőfára két szálával tekerték fel a vászon szélességéhez szükséges fonalmennyiséget.		
A csörlő segítségével hajtották fel a bodzafából készült csévére a fonalat.		
A szövés során a csónak formájú vetélőbe helyezett csévével juttatták a keresztfonalat a láncfonalak közé.		

9./ A paraszti viselet ruhadarabjai közül a vászonból készült ruhák különböző fajtáit láthatod az alábbi képeken. Írd az alattuk lévő vonalra a nevüket! (8 pont)

pendely, kézelős ing, vászonszoknya, bőgatya, női ing, lajbi, pruszlik, vászondolmány (kabátféle)



10./ Válogasd szét a női és a férfiruhákat! (4 pont)

Női ruhák: _____

Férfiruhák: _____

Max. pontszám: **58**

- 0-18 pont=1 elégtelen
- 19-28 pont=2 elégséges
- 29-42 pont=3 közepes
- 43-51 pont= 4 jó
- 52-58 pont= 5 jeles